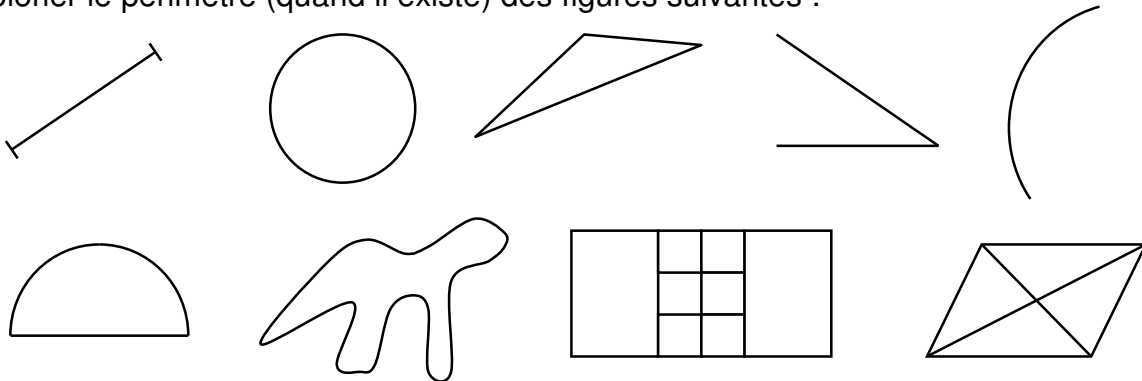




périmètres

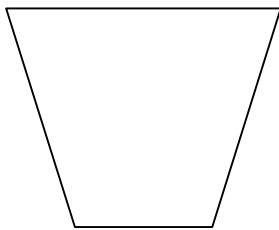
Exercice 1 :

Colorier le périmètre (quand il existe) des figures suivantes :



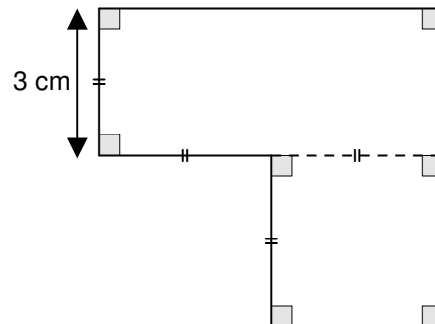
Exercice 2 :

Reporter les longueurs des segments formant le contour de la figure (avec le compas) sur une droite. Cela permettra d'indiquer le périmètre de la figure.



Exercice 3 :

Calcule le périmètre de cette figure.
(observe bien les codages)
Convertis le résultat en mètres.

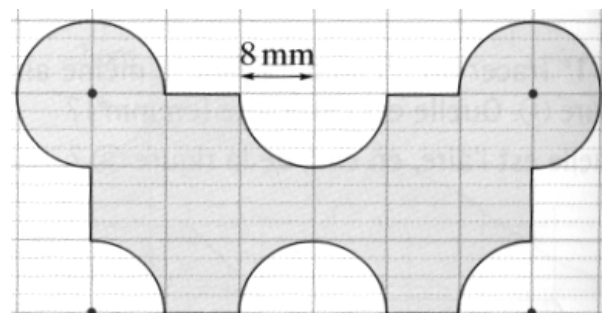


Exercice 4 :

Calcule le périmètre d'un cercle de 4 cm de rayon.

Exercice 5 :

Calculer le périmètre de cette figure.



Exercice 6 :

Convertir en dam :

0,08 hm ; 8,5 m ; 91,5 mm ; 0,54 km ; 50000 dm ; 1m 7 cm